

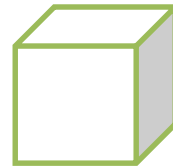


КРУГ И КРУЖНИЦА (4. разред)

Име и презиме: _____ Датум: _____

1. Повежи дате цртеже са оним што представљају:

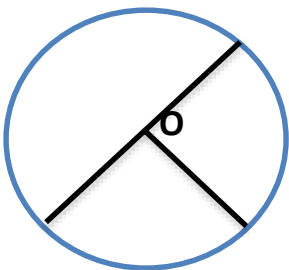
ГЕОМЕРИЈСКО ТЕЛО



ГЕОМЕТРИЈСКА ФИГУРА



2. На слици је приказан круг. Унутрашњу област круга обој зеленом, а спољашњу црвеном бојом. Посматрај слику, обележи пречник и полупречник и одговори на захтеве:



Шта је тачка О? _____

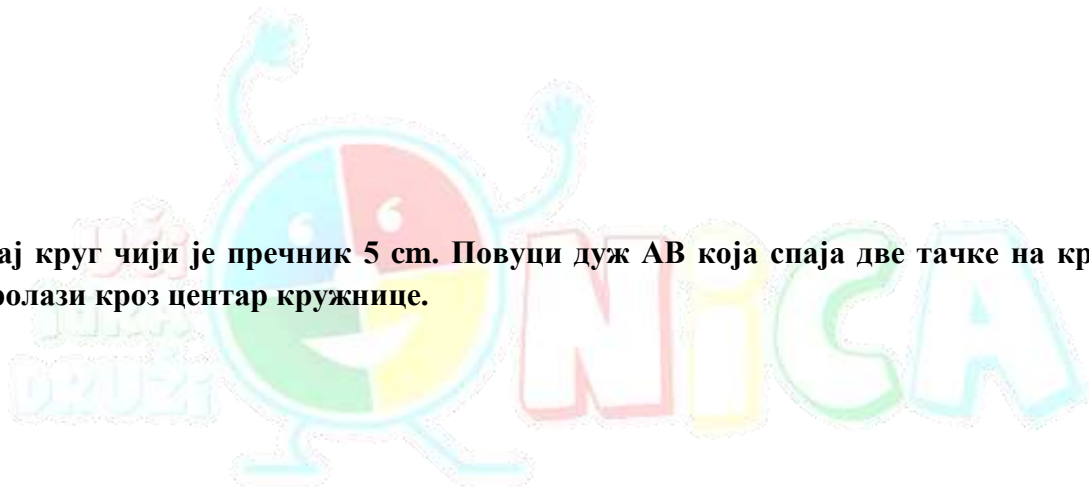
Како се израчунава полупречник круга?

У спољашњој области круга напиши тачку Р.

3. Нацртај круг чији је пречник 6 cm.

4. Тачка O је заједнички центар две кружнице. Пречник једне кружнице је 4 cm, полупречник друге кружнице је 1 cm и 5 mm. Нацртај те две кружнице.

5. Нацртај круг чији је пречник 5 cm. Повуци дуж AB која спаја две тачке на кружници, али не пролази кроз центар кружнице.



6. Око тачке O опиши круг који пролази кроз тачку E .

