



ОРИЈЕНТАЦИЈА У ВРЕМЕНУ И КРЕТАЊЕ ТЕЛА

(2. разред)

1. Шта је календар?

2. У којем је годишњем добу је 1. септембар?

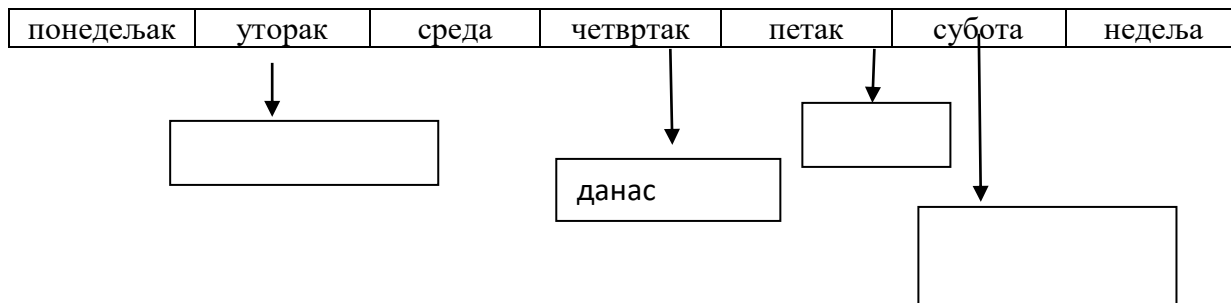
3. Који месец претходи септембру? _____

4. Који месец ће бити четири месеца након септембра? _____

5. Ком годишњем добу припада јануар? _____

6. Које су основне одлике зиме?

7. На ленти времена правилно распореди следеће речи : сутра, јуче, прекјуче, прекосутра. Једна реч је вишак.



8. Прецртај уљеза.

На кретање утичу:

а) облик тела, б) подлога по којој се тело креће, в) боја предмета, г) средина по којој се тела крећу.

Делови дана су: а) јутро, б) преподне, в) послеподне, г) школски одмор, д) вече, њ) ноћ.

9. У свакој колони заокружи тачан одговор.

* Један дан траје траје:

а) 24 часа,

* Почетак новог дана креће од:

а) 12 часова,

* Година

а) 60 месеци,

б) 60 часова,
в) 12 часова.

б) 24 часа,
в) 00 часова.

б) 12 месеци,
в) 24 месеца.

10. Допуни реченицу одговарајућим речима из цвета. Једна реч је вишак.

Тамни део дана је _____

Светли део дана је _____

Средина дана је _____



11. Прецртај датуме који нису могући:

* 34. 5. 2020.

* 27. 7. 2019.

* 25. 6. 2019.

* 30. 2. 2020.


* 3. 14. 2020.

* 31. 4. 2020.

12. Напиши све дане у седмици:

* Напиши све називе месеци који трају 30 дана:

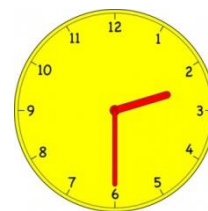
13. Које време показују часовници:



Пре подне



После подне



После подне

14. Поред тачне тврдње заокружи ДА, а поред нетачне тврдње НЕ:

* У насељу се можемо снаћи помоћу важних објеката. ДА НЕ

* Календарска година почиње у јануару. ДА НЕ

* Мала казаљка се брже окреће од велике казаљке. ДА НЕ

* Октобар је зимски месец. ДА НЕ

* Пети месец у години је јун. ДА НЕ