





САБИРАЊЕ И ОДУЗИМАЊЕ ДО 9


1. Израчунај и у  упиши резултат.


$3 + 6 =$ 


$7 - 2 + 3 =$ 

$5 + 3 - 1 =$ 

$8 - 1 + 1 =$ 

$4 + 4 - 2 =$ 

$6 - 3 + 4 =$ 

2. Упореди резултате. У  упиши знак $<$, $>$ или $=$.

$5 + 3$  $8 - 3$

$6 - 2$  $3 + 2$

$9 - 1$  $8 - 1$

$4 + 5$  $1 + 7$

$3 - 2$  $5 - 4$

$7 + 2$  $2 + 6$

3. Претходнику броја 6 додај следбеник броја 2.

4. Милан је имао 7 бомбона. Појео је 3 бомбоне. Колико му је бомбона остало?

Одговор: _____

5. На једној фарми живе 2  , 3  и 4  .

Колико укупно животиња живи на овој фарми?

Одговор: _____