









1. Дуња има 5  . Од сестре је добила још 13  . Колико Дуња сада има  ?

Одговор: Дуња сада има \_\_\_\_\_ .

2. Огњен има 17  . Марку је поклонио 4  . Колико је  остало Огњену?


Одговор: Огњену је остало \_\_\_\_\_ .

3. Попуни табеле:

сабирак	13	14	5	16	7
сабирак	3	3	12	1	12
збир					

умањеник	16	17	17	17	19
умањилац	3	3	2	5	2
разлика					

4.



5. У аутобусу је било 10 путника. Прво су изашла 3, а затим још 2 путника. Колико је путника остало у аутобусу? Израчунај на два начина!

Први начин: \_\_\_\_\_

Други начин: \_\_\_\_\_

Одговор: У аутобусу је остало \_\_\_\_\_ путника.